

ВСЕРОССИЙСКАЯ ОЛИМПИАДА ШКОЛЬНИКОВ 2023/24 гг.
ШКОЛЬНЫЙ ЭТАП
ИСТОРИЯ
9 КЛАСС

И-9-1 238.

Задания для обучающихся

Время выполнения - 80 мин
Максимальный балл - 56

46. Задание 1. «Да» или «нет»? Если вы согласны с утверждением, напишите «да», если не согласны – «нет».

(За каждый правильный ответ – 1 балл. Максимальный балл – 10 баллов).

1. Первое народное возмущение, описанное в «Повести временных лет» произошло при княжении Святослава;
2. Основным общегосударственным мероприятием на Руси в IX-XII вв. был сбор дани, проходивший, как правило, ежегодно с апреля по ноябрь.
3. В результате победы Александра Ярославича на Чудском озере Ливонский орден не смог осуществить планы завоевания Северной Руси и обращения ее в католичество.
4. Создателем теории «Москва – Третий Рим» был псковский старец Филофей;
5. Поход Ермака положил начало присоединению Западной Сибири к Российскому государству
6. Приказ Большого двора появился при Иване III.
7. В летописях Грозным называют и Ивана III, и Ивана IV.
8. Избрание царя на российский престол состоялось только однажды.
9. Д.И. Фонвизин, А.Н. Радищев, Г.Р. Державин, Н.И. Новиков были современниками Екатерины II.
10. Павел I с малых лет воспитывался как будущий император: он давал аудиенции иностранным послам, обедал за одним столом с самыми знатными сановниками государства, чтобы научиться царствовать.

1	2	3	4	5	6	7	8	9	10
Да	Нет		Да	Да		Нет		Да	Да

1

1

1

1

46. Задание 2. По какому принципу образованы ряды имен и фамилий.

(За каждый правильный ответ – 2 балла. Максимальный балл – 6 баллов).

2 А) Олег, Игорь, Владимир, Ярослав;

Князья Князья

2 Б) Андрей Курбский, Алексей Адашев, Сильвестр;

Избранная родья

ВСЕРОССИЙСКАЯ ОЛИМПИАДА ШКОЛЬНИКОВ 2023/24 гг.
ШКОЛЬНЫЙ ЭТАП
ИСТОРИЯ
9 КЛАСС

В) А.Д. Меншиков, Лефорт, Ф.Ю. Ромодановский, Ф.М. Апраксин;

06. Задание 3. По какому принципу образованы ряды.

(За каждый правильный ответ – 2 балла. Максимальный балл – 4 балла).

1) 1589, 1700, 1721, 1917 гг.;

Постыпище ермолов

2) 1237, 1240, 1380, 1382, 1408 гг.

66. Задание 4. Тестовое задание

(За каждый правильный ответ – 2 балла. Максимальный балл – 6 баллов).

Деятельность каких трех исторических деятелей относится к XVIII веку?

1) протопоп Аввакум;

2) Степан Разин;

3) Емельян Пугачев;

4) Ломоносов М.В.;

5) А.В. Суворов;

6) Ермак Тимофеевич

116. Задание 5. Вставьте пропущенные слова.

(За каждый правильный ответ – 1 балл. Максимальный балл – 13 баллов).

ОДИН ДЕНЬ ИЗ ЖИЗНИ ПЕТРА

Он обыкновенно вставал и летом, и зимою в 1. 4 + (четыре, восемь, одиннадцать) часа(ов) и, не одеваясь, в холстинном камзоле и ночном колпаке садился к письменному столу и

+ занимался: 2. набрасывал проекты указов, 3. пересматривал переводы, правил выходящий номер газеты). В это время к нему являлись

+ 5. чиновники (министры, дьяки, приказчики) с докладами. Затем он, наскоро позавтракав, отправлялся в 6. Сенат +, 7. Коллегии +,

+ 8. фабрики (Сенат, коллегии, закусочную, корабельные мастерские). После обеда, который у него занимал 9. немного (много, немного) времени, ложился отдохнуть на полтора-два часа. После сна 10. гулял по Петербургу +, снова занимался делами). Обычно он собственноручно писал указы и письма, выслушивал бумаги, составленные по сделанным 11.

+ замечаниям (поутру, с вечера) замечаниям. Любимыми занятиями его в минуты отдыха были 12. шашки +,

13. работа на токарном станке, игра в шахматы, посещение храмов, охота и рыбная ловля. +

ВСЕРОССИЙСКАЯ ОЛИМПИАДА ШКОЛЬНИКОВ 2023/24 гг.
ШКОЛЬНЫЙ ЭТАП
ИСТОРИЯ
9 КЛАСС

X Задание 6. Проанализируйте предложенный отрывок и ответьте на вопросы.

(Максимальный балл – 5 баллов).

«В июле 1767 г. в Москву съехалось около 500 представителей с мест, среди членов нового учреждения было 29 представителей от правительственных учреждений, 142 — от уездных дворянских собраний, 22 — от украинского дворянства и офицерства, 42 — от однодворцев, 44 — от казачества, 29 от различных групп государственных крестьян, 209 — от городов, 54 — от инородцев. На заседаниях общей и частных комиссий обсуждались самые различные проблемы: крепостного права, прав и обязанностей сословий, земельной собственности, управления. Екатерина II почти всегда присутствовала в зале, перечитывала протоколы заседаний, анализировала предложения и споры».

1. Назовите орган, который был созван императрицей.

2. Чем и почему завершилась эта инициатива императрицы?


Приведите не менее двух аргументов, объясняющих такой результат.

Ответ:


X Задание 7. Рассмотрите представленные ниже изображения и выберите те из них, которые относятся к одному и тому же событию.

(За каждый правильный ответ 2 балла. Максимальный балл – 4 балла).

1)




2)




ВСЕРОССИЙСКАЯ ОЛИМПИАДА ШКОЛЬНИКОВ 2023/24 ГГ.
ШКОЛЬНЫЙ ЭТАП
ИСТОРИЯ
9 КЛАСС

3)



4)



Ответ 2, 3

Задание 8. Работа с картой.
(За каждый правильный ответ – 2 балла. Максимальный балл – 8 баллов). Рассмотрите схему и выполните задания



8.1. Напишите имя монарха, в чье правление шла война, события которой обозначены на данной схеме.

8.2. Напишите фамилию русского полководца, под командованием которого была взята штурмом хорошо укрепленная крепость, обозначенная на схеме цифрой «2».

ВСЕРОССИЙСКАЯ ОЛИМПИАДА ШКОЛЬНИКОВ 2023/24 гг.
ШКОЛЬНЫЙ ЭТАП
ИСТОРИЯ
9 КЛАСС

8.3. Напишите название государства, которое было основным противником России в войне, события которой изображены на данной схеме.

8.4. Какие суждения, относящиеся к событиям, обозначенным на схеме, являются верными? Выберите три суждения из шести предложенных. Запишите в таблицу цифры, под которыми они указаны.

- 1) Город, обозначенный на схеме цифрой «3», стал базой русского Черноморского флота.
- 2) Следствием данной войны стала потеря Россией территорий, обозначенных на схеме вертикальной штриховкой.
- 3) Участниками войны, события которой изображены на данной схеме, были В. А. Корнилов и П. С. Нахимов.
- 4) Мирный договор, завершивший войну, события которой обозначены на данной схеме, был подписан в городе, отмеченном цифрой «4».
- 5) Одним из главных событий войны, ход которой изображён на данной схеме, было Чесменское морское сражение.
- 6) Русским флотом в сражении, которое произошло у мыса, обозначенного на схеме цифрой «1», командовал Ф. Ф. Ушаков.

